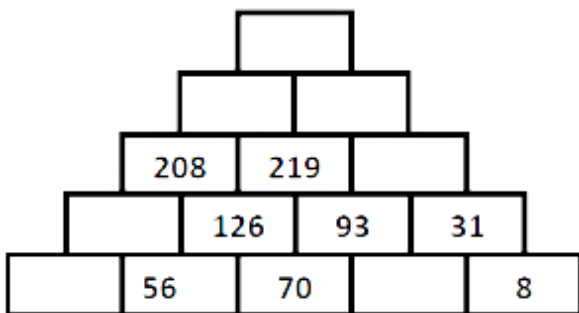


Supplément jeux

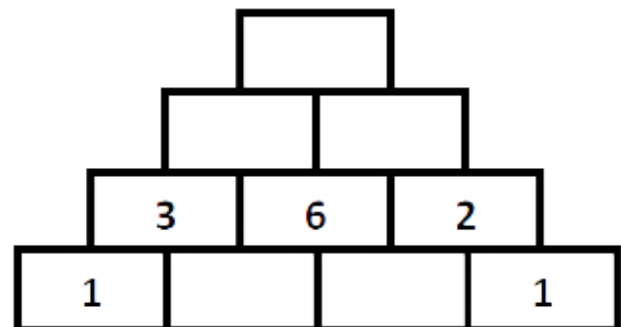
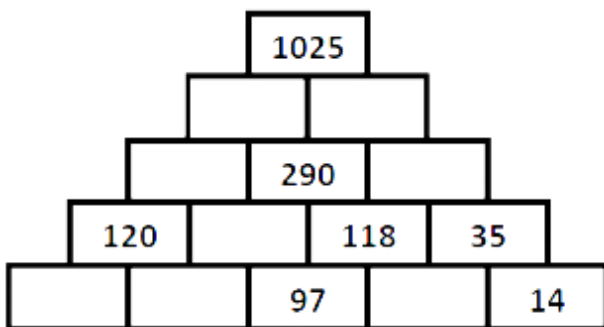
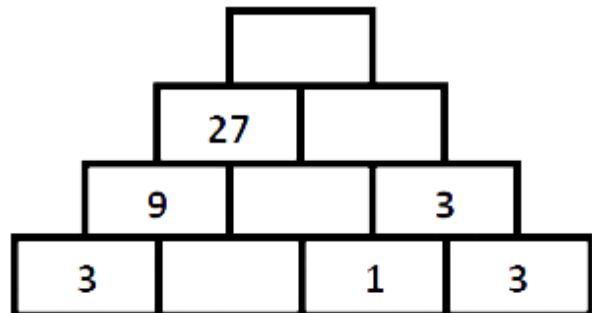
Activité 1

a) Des pyramides. **Complétez** ces pyramides de nombres.

Chaque case est **la somme** des deux cases inférieures.



Chaque case est **le produit** des deux cases inférieures.



b) Un peu de logique. **Retrouvez** qui fait quoi.

Serge, Alain et Marc sont mariés avec Lise, Monique et Hélène.


- Indices :**
- 1) Serge aime jouer au golf avec le mari de Monique.
 - 2) Alain est voisin de Lise et fait de l'escalade.
 - 3) La fille de Marc gardait un des enfants de Hélène.
 - 4) Le mari de Monique n'est guère sportif.

Qui est marié avec qui ?

	Alain	Serge	Marc
Lise			
Monique			
Hélène			

Activité 2

a) **Comptez** les cubes.

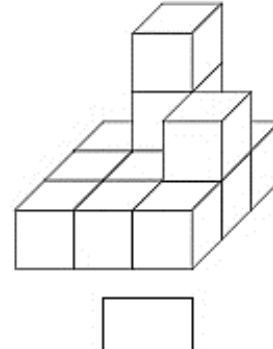
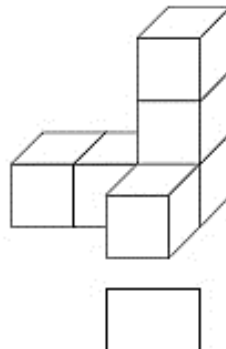
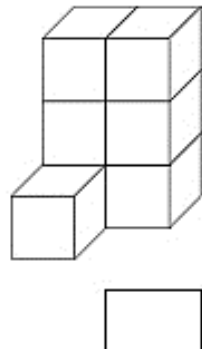
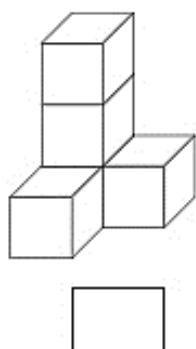


b) **Combien de cubes manque-t-il** pour construire des parallélépipèdes rectangles ?

Longueur = 2
Largeur = 2
Hauteur = 3

Longueur = 3
Largeur = 2
Hauteur = 3

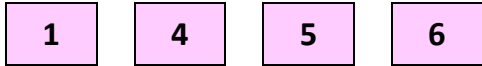
Longueur = 3
Largeur = 3
Hauteur = 3



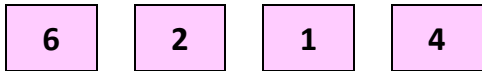
Activité 3

a) **Trouvez** le code secret pour ouvrir le coffre-fort.

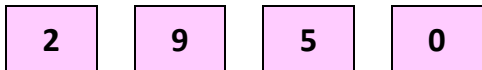
Indices :



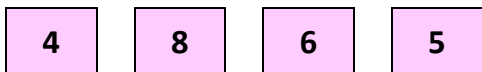
Aucun chiffre correct



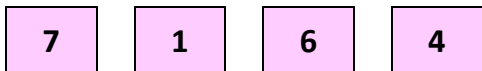
Un chiffre correct et mal placé



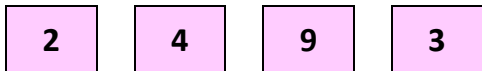
Un chiffre correct et bien placé



Un chiffre correct et bien placé




Un chiffre correct et mal placé



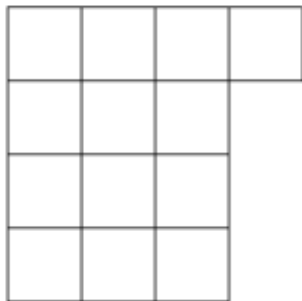


Deux chiffres corrects et bien placés

Code à trouver :



b) **Reproduisez** les formes colorées pour remplir la forme vide. Ne débordez pas et ne laissez pas de « trous ». Au besoin, **découpez** et **collez**.



Activité 4

Dans un film, Michel pourrait jouer le rôle de celui qui forge une épée

A chacun son métier : **Ecrivez** le numéro près de la photo adéquate !

1. Hôte(sse) de l'air / 2. Confiseur / 3. Commis / 4. Aquaculteur / 5. Apiculteur / 6. Sylviculteur / 7. Chapelier / 8. Ebéniste / 9. Luthier / 10. Bruiteur / 11. Illustrateur / 12. Infographiste / 13. Couvreur / 14. Droguiste / 15. Libraire / 16. Opticien / 17. Juge / 18. Enseignant / 19. Secrétaire / 20. Eboueur / 21. Gameur / 22. Reporter / 23. Fossoyeur / 24. Infirmier / 25. Sapeur-pompier / 26. Arbitre / 27. Batelier / 28. Coach / 29. Parents 😊 / 30. Et toi, tu aimerais exercer quoi comme métier plus tard ?





Activité 5 Ben et Assia s'entraînent pour le triathlon...dans une carrière

A vos PC ou tablette ou ...


A 12 ans, il faut nager 200 m, rouler 5 km puis courir 1,5 km ou 2 km. Mais un Triathlon complet, quelles sont les distances parcourues ?

- ✓ Natation : Vélo : Course à pied :
.....(qui correspond à la distance d'un marathon !!!)

Comment appelle-t-on un athlète qui boucle un triathlon complet ?

- ✓ Un

A vos crayons ou feutres ou ...



Activité 6 Pays de l'UE (1)

Voici des capitales de pays de l'UE. **Écrivez** le nom des pays dont voici les capitales au bon endroit dans la grille.

- | | | | |
|---------------|-------------|---------------|----------------|
| 1. Copenhague | 2. Helsinki | 3. Budapest | 4. Rome |
| 5. Tallinn | 6. Riga | 7. Vilnius | 8. Berlin |
| 9. Madrid | 10. Vienne | 11. Sofia | 12. Bratislava |
| 13. Nicosie | 14. Athènes | 15. Bruxelles | 16. Stockholm |

The crossword puzzle grid is composed of empty squares. The starting points for the clues are as follows:

- 1. Copenhague (6 down)
- 2. Helsinki (2 down)
- 3. Budapest (3 right)
- 4. Rome (4 down)
- 5. Tallinn (5 right)
- 6. Riga (6 down)
- 7. Vilnius (7 down)
- 8. Berlin (8 down)
- 9. Madrid (9 down)
- 10. Vienne (10 right)
- 11. Sofia (11 down)
- 12. Bratislava (12 right)
- 13. Nicosie (13 right)
- 14. Athènes (14 right)
- 15. Bruxelles (15 right)
- 16. Stockholm (16 down)

Activité 7 Pays de l'UE (2)

Écrivez le numéro de ces pays sur la carte suivante.



Activité 8 Pays de l'UE (3)

Voici des spécialités culinaires de 16 pays. **Écrivez** le nom du pays sous chacun de ces mets.

la paella



.....

le schnitzel



.....

la pizza



.....

le mezze



.....

la goulash



.....

le kiopolou



.....

les moules – frites



.....

les beignets de Berlin



.....

les piragipiragis



.....

Activité 9 Jeu de l'éléphant. 2^{ème} partie



Voici 52 cartes supplémentaires pour améliorer votre culture générale, avec le jeu du 14 mai 2020.

<p>Comment s'appelait le dieu des vents dans l'Antiquité ?</p> <p>Eole</p>	<p>Qui a écrit l'opéra « Aïda » ?</p> <p>Giuseppe Verdi</p>	<p>Qui est l'intrus ? Dauphin, requin, truite, saumon, mэрou.</p> <p>Le dauphin (mammifère et non poisson)</p>	<p>Citez le nom des 3 mousquetaires.</p> <p>Athos, Porthos et Aramis</p>
---	--	---	---

<p>Comment s'appelle les deux tropiques ?</p> <p>Tropique du Cancer et Tropique du Capricorne</p>	<p>Quel est le nom de l'actuel premier ministre belge ?</p> <p>Sophie Wilmes</p>	<p>Combien de rois se sont succédés sur le trône belge depuis 1831 ?</p> <p>8</p>	<p>Qui chante « Le plat pays » ?</p> <p>Jacques Brel</p>
<p>Comment s'appellent les petites feuilles vertes de la fraise ?</p> <p>Les sépales</p>	<p>Comment appelle-t-on une période de cinq ans ?</p> <p>Un lustre</p>	<p>Quel nom porte la capitale des Pays-Bas ?</p> <p>Amsterdam</p>	<p>En quelle année, Charlemagne devint-il empereur ?</p> <p>800</p>

<p>Depuis combien d'années utilise-t-on le mot « robot » ?</p> <p>100 ans</p>	<p>Comment appelle-t-on un corps composé de roches et de métaux, qui se déplace dans l'espace ?</p> <p>Un astéroïde</p>	<p>Comment s'appelait le premier satellite artificiel de la terre ?</p> <p>Sputnik 1</p>	<p>En quelle année l'homme a-t-il marché pour la première fois sur la lune ?</p> <p>1969</p>
<p>Quel fruit produit de l'huile d'arachide ?</p> <p>La cacahuète</p>	<p>Quelle est la couleur d'un panneau routier indiquant une interdiction ?</p> <p>Rouge</p>	<p>De quelle partie du corps provient un fémur ?</p> <p>De la cuisse</p>	<p>Comment s'appelait le navigateur qui le premier fit le tour du monde ?</p> <p>Magellan</p>

<p>De combien de boules est constitué l'Atomium ?</p> <p>9</p>	<p>Comment s'appelle la tenue d'un policier ?</p> <p>Un uniforme</p>	<p>Quelle couleur obtient-on en mélangeant du rouge et du bleu ?</p> <p>Du mauve</p>	<p>« Je suis un volatile qui annonce le lever du jour, je suis... »</p> <p>Un coq</p>
<p>Trois lettres peuvent signifier un appel au secours. Lesquelles ?</p> <p>SOS</p>	<p>« Avoir le cœur gros » signifie : -être essoufflé, -être malade, -avoir du chagrin, -avoir de la chance ?</p> <p>Avoir de la chance</p>	<p>Un Néerlandais est un habitant de quel pays ?</p> <p>Les Pays-Bas</p>	<p>D'où vient le liège qui sert à fabriquer les bouchons ?</p> <p>De l'écorce du chêne-liège</p>
<p>Comment s'appelle la femelle du daim ?</p> <p>La daine</p>	<p>Dans quelle province belge puis-je visiter la citadelle de Dinant ?</p> <p>Namur</p>	<p>Qu'a-t-on sur la main quand on est très généreux ?</p> <p>Le cœur</p>	<p>Quel est le point commun entre : ouïe, odorat, vue, gout et toucher ?</p> <p>Ce sont des sens</p>
<p>La rotule est un os du...</p> <p>Genou</p>	<p>De quelle famille d'aliments font partie le pain, la pomme de terre et les pâtes ?</p> <p>Les féculents</p>	<p>Combien de temps faut-il pour cuire un œuf à la coque ?</p> <p>6 minutes</p>	<p>La Bretagne est une région de quel pays ?</p> <p>La France</p>
<p>Comment s'appelle le mâle de la biche ?</p> <p>Le cerf</p>	<p>De quel continent nous vient le riz ?</p> <p>Asie</p>	<p>Que mange une coccinelle ?</p> <p>Des pucerons</p>	<p>Quel pourcentage du globe terrestre représentent les mers et les océans ?</p> <p>70%</p>

<p>Quel est le nombre total de points d'un dé à jouer ?</p> <p>21</p>	<p>Combien de pattes possède la fourmi ?</p> <p>6</p>	<p>A combien d'années l'âge de la terre est-il estimé ? 45 milliards, 4,5 milliards, 450 milliards ou 450 millions ?</p> <p>4,5 milliards</p>	<p>Laquelle de ces chaussures est une chaussure basse : la botte, le mocassin, la bottine, l'escarpin</p> <p>Le mocassin</p>
<p>Lequel de ces animaux vit en haute montagne : cerf, chamois, antilope, chevreuil ?</p> <p>Le chamois</p>	<p>Quelle couleur ne fait pas partie de l'arc-en-ciel : rouge, bleu, jaune, blanc ?</p> <p>Le blanc</p>	<p>Comment s'appelaient les bateaux des Vikings ?</p> <p>Des drakkars</p>	<p>Lequel de ces drapeaux n'est pas tricolore : Italie, Allemagne, Belgique ou Espagne ?</p> <p>Espagne</p>
<p>Quel savant français découvrit le vaccin contre la rage ?</p> <p>Louis Pasteur</p>	<p>Comment s'appelait la voiture qui transportait autrefois les voyageurs de relais en relais ?</p> <p>La diligence</p>	<p>Où achète-t-on du fil, des aiguilles, des boutons, du biais, des tirettes,...</p> <p>Dans une mercerie</p>	<p>Dans quelle province puis-je visiter le plus grand port de notre pays ?</p> <p>Province d'Anvers</p>

Activité 10 Partages inégaux

1. Une famille de 4 personnes s'est rendue au bord de la Meuse pour ramasser des galets afin de réaliser un bricolage.

Le père en a ramassé 5 de plus que son épouse.

Le fils en a le double de sa sœur.

La sœur en a autant que sa maman.

Ensemble, ils ont ramassé 25 galets.

Qu'ont-ils ramassé chacun ?



2. Louise, Aïcha et Maria ont cueilli 135 fleurs pour confectionner des bouquets pour les résidentes d'un home.

Louise en a rapporté 15 de moins que Maria et la moitié d'Aïcha.

Combien de fleurs ont-elles cueillies chacune ?



3. Quatre écoles ont récolté ensemble 7670 € pour les classes de neige.

La 2^{ème} école a recueilli la moitié de la première et le tiers de la troisième.

La troisième a récolté 470 € de moins que la quatrième.

Quelle somme a rapporté chaque école ?

Réalisation de Perrine suite au dernier supplément jeux !

Merci Perrine, ton gâteau est magnifique et très appétissant 😊🍌

